

Exercice n°1 Ah quel prix !

Prix de revient d'un kilomètre = $\frac{684}{60 + 60 + 450} = \frac{684}{570} = 1,2$ (en F) *2 points*

Part de A = part de B = $\frac{1}{2} \times 60 \times 1,2 + \frac{1}{3} \times 60 \times 1,2 + \frac{1}{5} \times 450 \times 1,2 = 168$ (en F) *1 point*

Part de C = $\frac{1}{3} \times 60 \times 1,2 + \frac{1}{5} \times 450 \times 1,2 = 132$ (en F) *1 point*

Part de D = part de E = $\frac{1}{5} \times 450 \times 1,2 = 108$ (en F). *1 point*

Exercice n°2 Le délice du limaçon

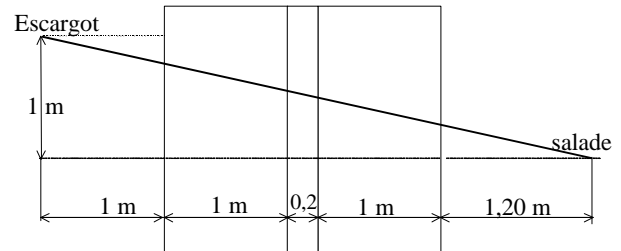
Trajet 1 = $3,2 + \sqrt{2,44} \approx 4,762$ m *1 point*

Trajet 2 = $3,4 + \sqrt{2} \approx 4,814$ m *1 point*


Trajet 3 = $2,2 + \sqrt{1,25} + \sqrt{1,69} \approx 4,618$ m *2 points*

Trajet minimal = $\sqrt{20,36} \approx 4,512$ m. *2 points*

Réalisation de la maquette *2 points*



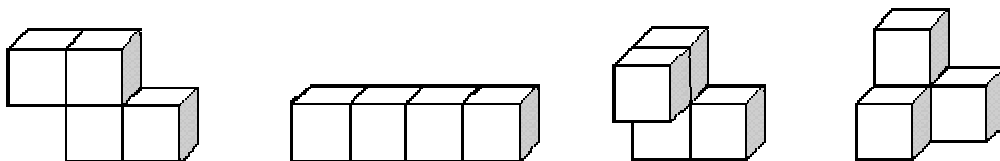
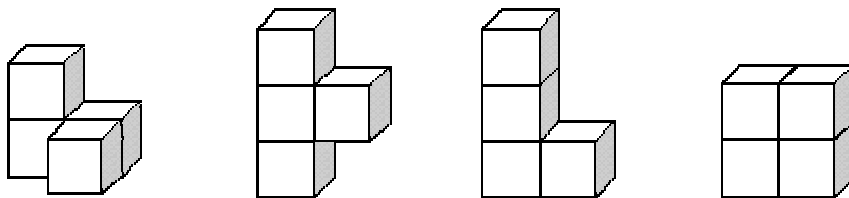
Exercice n°3 En noir et blanc



5 points

Exercice n°4 Quadricubes

2 points par quadricube

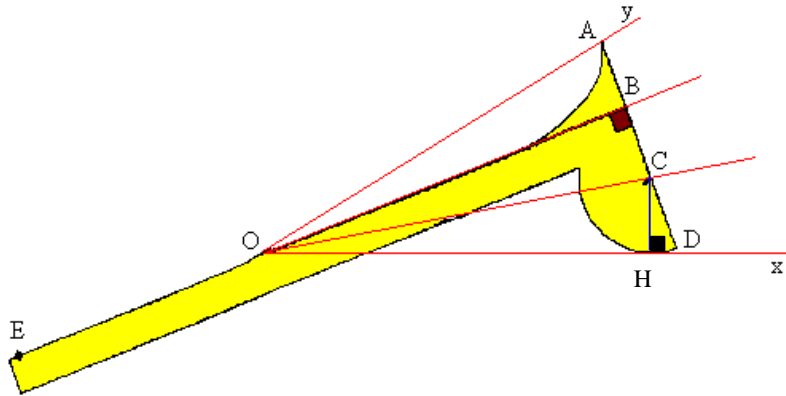


Exercice n° 5 Le trisecteur de BERGERY*4 points par question*

(OB) et (Ox) sont tangentes au demi-cercle respectivement en B et en H. (OC) est donc la bissectrice de l'angle \widehat{BOH} ; on a donc l'égalité d'angles : $\widehat{DOC} = \widehat{COB}$.

(OB) est médiatrice de [AC]. Le triangle COA est donc isocèle en O. La médiane issue de O est aussi la bissectrice de l'angle \widehat{COA} .

Les demi-droites [OB) et [OC) partagent bien l'angle \widehat{xOy} en trois angles de même mesure.

**Exercice n°6 Partage équitable ?**

AFC est un triangle rectangle dont l'angle $\widehat{C} = 45^\circ$ donc l'angle $\widehat{FAC} = 45^\circ$ et l'angle $\widehat{FAB} = 105 - 45 = 60^\circ$.

Le triangle AEF est isocèle de sommet principal A et d'angle $\widehat{A} = 60^\circ$. Il est donc équilatéral. *1 point*

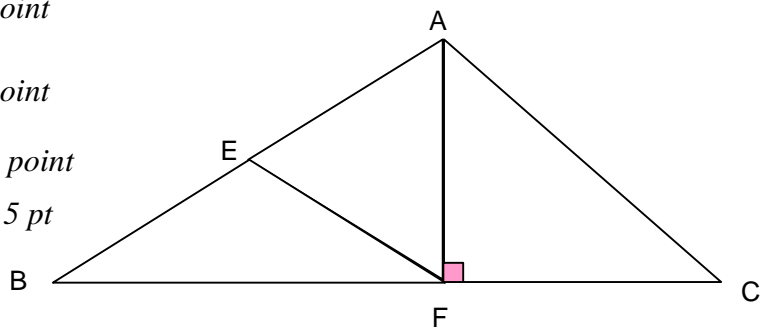
L'angle $\widehat{EFB} = 90 - 60 = 30^\circ$ donc le triangle EBF a deux angles égaux, par conséquent il est isocèle de sommet principal E. *1 point*

Si on pose $AF = a$ alors :

$$\text{aire de ACF} = \frac{1}{2} a^2, \quad \text{1 point}$$

$$\text{aire de BEF} = \text{aire de AEF} = \frac{\sqrt{3}}{4} a^2, \quad \text{1,5 point}$$

$$\text{aire de AEF} = \text{aire de BEF} < \text{aire de ACF}. \quad \text{0,5 pt}$$

**Exercice n°7 Encadrez la recherche***3 points pour 2000 et 5 points pour 1 458 000*

Si x divisé par 20 est un carré alors x est un multiple de 20 donc x se termine par un 0.

Si x divisé par 16 est un cube, alors il existe un entier k tel que : $x = 16 k^3$.

Or $x < 1\,500\,000$ donc $k^3 < 93750$ et donc $k < 45$.

x étant le produit de 16 par un cube et devant se terminer par 0, il suffit d'essayer les cubes des nombres inférieurs à 45 se terminant par 0 ou 5.

Les deux solutions, autres que 128000, sont 2000 (16×5^3) et 1458000 (16×45^3).

Exercice n° 8 Les temps modernes

Parmi les 1000 personnes, 700 possèdent un lecteur de CD, 850 un téléphone et 452 un ordinateur.

Au moins 550 personnes (1550 - 1000) possèdent un lecteur de CD et un téléphone. *2 points*

Au moins 152 personnes (1152 - 1000) possèdent un lecteur de CD et un ordinateur.

Au moins 302 personnes (1302 - 1000) possèdent un téléphone et un ordinateur.

Donc 1002 personnes (550 + 152 + 302) possèdent au moins deux des trois objets.

Comme le sondage porte sur 1000 personnes, au moins deux d'entre-elles possèdent les objets. *3 points*