


Habiter un espace de faible densité à vocation agricole



Comment les hommes vivent-ils dans un espace agricole peu peuplé et comment agissent-ils sur le paysage ?

Définitions :

- L'espace rural désigne la campagne
- La densité de population c'est le nombre d'habitants par km² (ou nombre de personnes vivant dans un carré d'1 km de côté)

Etude de cas : Cuzion : habiter un espace rural en déprise dans un pays riche.

Habiter un espace de faible densité à vocation agricole



► Chateaubrun
Photo : Pavageau, 2016

Cuzion : un espace de faible densité à vocation agricole

1 Document : Vue aérienne de Cuzion, Google earth, 2008



Consigne

Je repère les principaux espaces et éléments qui composent le paysage

Cuzion : un espace de faible densité à vocation agricole

CAPACITÉS
III. H. 17 -Réaliser un croquis, un schéma ou une carte en respectant les règles de la cartographie

► Croquis du paysage de Cuzion, Google earth, 2008



Légende :


1. Les espaces non bâtis :



2. Les espaces bâtis :



3. Les axes de communication :



Mode d'emploi

1. Avec un calque, un TBI ou une tablette, je délimite les grands espaces et éléments du paysage.
2. Je les nomme et les place de manière organisée dans une légende.
3. Je choisis les figurés de ma légende puis les reporte sur le croquis.

► Croquis du paysage de Cuzion, Google earth, 2008



Légende :

1. Les espaces non bâtis :

 Bocage

 Forêt

2. Les espaces bâtis :

 Village

 Aire de loisirs

3. Les axes de

communauté
 Routes départementales

 Rivière

Mode d'emploi

1. Avec un calque, un TBI ou une tablette, je délimite les grands espaces et éléments du paysage.
2. Je les nomme et les place de manière organisée dans une légende.
3. Je choisis les figurés de ma légende puis les reporte sur le croquis.

Croiser des informations statistiques sur un paysage

1 ► Tableau comparatif des Densités de population, Insee 2015

	France	Centre-Val-de-Loire	Indre
Densité : hab./km ²	118	65	34

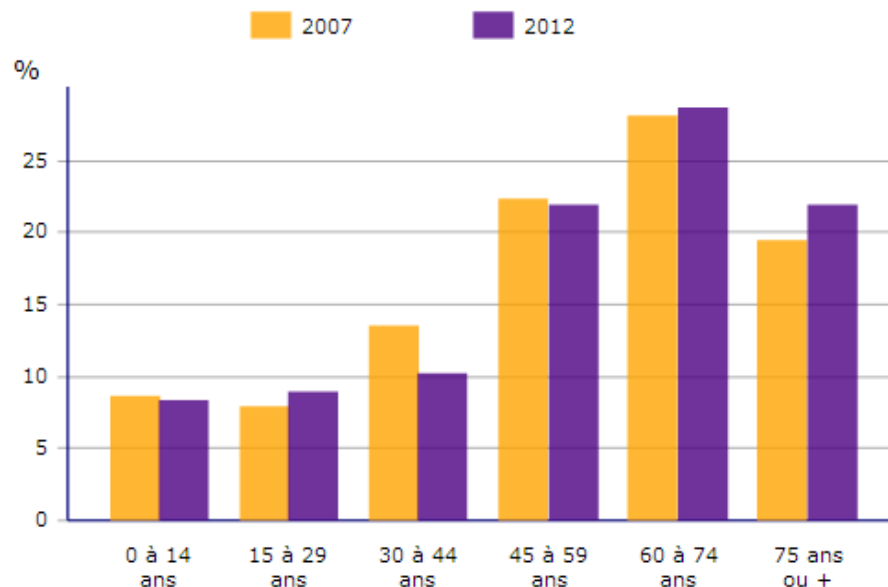
2 ► Evolution de la population de Cuzion, Insee 2015

Années	1968	1975	1982	1990	1999	2007	2012
Population	757	618	562	524	504	461	442
Densité : hab./km ²	41	33,5	30,5	28,4	27,3	25	24

3 ► La répartition des Emplois à Cuzion en 2013, Insee

Secteurs d'activités	total	%
Agriculture	7	18,9
Industrie	3	8,1
Construction	5	13,5
Commerce, transports et services	19	51,4
Administration	3	8,1
Ensemble	37	100

4 ► La répartition par âge de la population de Cuzion, Insee 2015



Questions

- Doc.1 et 2.** Quelle est la densité de population à Cuzion en 2012 ? Que peut-on en dire par rapport à la densité de la France ? de la région Centre-Val-de-Loire ? Du département de l'Indre ?
- Doc.2.** Comment a évolué la population de Cuzion de 1968 à 2012 ?
- Doc. 4.** Que peut-on dire de la répartition par âge de la population ?
- Doc.5.** Comment a évolué le nombre d'agriculteurs ?
- Doc.3.** Dans quel type de profession trouve-t-on le plus d'emplois ?

5 ► Quel avenir ?

Dans l'Indre, on comptait 14 791 exploitations agricoles en 1971. Elle ne sont plus que 5 979 en 2010. A Cuzion, on comptait 12 exploitations en 2010. Elles sont 7 en 2015.

Source : agreste.agriculture.gouv.fr/

Observer un paysage dans le temps

1 ► Prairies au lieu dit du Cerisier, Cuzion, L. Pavageau 2016



Questions

1. **Doc.1.** Quel type d'agriculture est pratiqué à Cuzion ?
2. **Doc.1. p. 2.** Quel est l'élément le plus présent dans le paysage ?
4. **Doc.1. p. 2.** Quelle partie du relief est utilisée par l'agriculture ?
5. Où sont les zones boisées ? Selon vous, pourquoi ?
6. **Doc.2** Quelles sont les principales transformations qu'ont connues les pentes en un siècle ?

2 ► Deux vues du moulin de Châteaubrun

Début XXe siècle



Début XXIe siècle



1 ► L'évolution du bocage entre 1950 et 2015, geoportail.gouv.fr 2016



Questions

1. Doc.1 et 2 ; Quelles sont les principales transformations apportées au bocage de 1950 à 2015 ?

Rédiger

À l'aide de toutes tes fiches, Rédige un paragraphe pour montrer qu'avec le temps, la commune de Cuzion a connu une déprise agricole et une désertification.

Vocabulaire

Déprise agricole : abandon de l'agriculture et retour des terres à la friche ou au bois.

Désertification : diminution progressive du nombre d'habitants dans un espace peu peuplé

Habiter un espace de faible densité à vocation agricole



► Chateaubrun
Photo : Pavageau, 2016

Rédige un paragraphe pour montrer qu'avec le temps, la commune de Cuzion a connu une déprise agricole et une désertification.



Vocabulaire

Déprise agricole : abandon de l'agriculture et retour des terres à la friche ou au bois.

Désertification : diminution progressive du nombre d'habitants dans un espace peu peuplé

Les nouveaux usages du paysage

1 ▶ La page d'accueil du site Cuzion.fr en janvier 2016



Cuzion
La parenthèse nature

Accueil Mairie Vie Pratique Tourisme Loisirs & Sport

Charmant petit village, Cuzion est situé dans le département de l'Indre (36) et la région du Centre-Val de Loire, aux confins du Berry et du Limousin, plus précisément dans la région naturelle du Boischaut Sud et de la région touristique du Val de Creuse. Son territoire, qui s'étend sur 18,45 km², surplombe la rivière la Creuse à une hauteur de 287 m tout en descendant jusqu'à ses rives et à celles du lac d'Eguzon. Au cœur des paysages vallonnés et des panoramas de la vallée de la Creuse, Cuzion est à la croisée des plages du lac d'Eguzon, de nombreux sentiers de randonnée dont le Chemin de St Jacques de Compostelle, du Pays de Georges Sand, et de villages pittoresques environnants tels Gargillesse. Une nature préservée entre les villes de Châteauroux et Limoges.

Questions

1. **Doc 2.** À quoi sert à présent le moulin de Châteaubrun ?
2. **Doc.1.** Comment la commune de Cuzion utilise-t-elle les paysages sur sa page d'accueil ? Quelle
3. Quelle activité sportive et touristique encourage-t-elle à pratiquer ?
4. Comment cette activité peut-elle intéresser les propriétaires du moulin de Châteaubrun ?

2 ▶ Panneaux indicateurs

L. Pavageau 2016



Rédiger

À partir de tes réponses, explique en quelques lignes sur quoi peut reposer l'avenir de la commune de Cuzion.

Faire le bilan

Les espaces ruraux sont très variés sur la planète. Dans les pays riches, ils sont souvent peu peuplés mais peuvent être très différents.

I. Les espaces ruraux en déprise dans les pays développés

A. La désertification (Étude de documents p.4)

- Avec le **développement des machines**, les exploitations agricoles ont eu besoin de moins de main d'oeuvre. Une partie de **la population quitte la campagne pour chercher du travail en ville : c'est l'exode rural**. Les commerces locaux ont progressivement fermé et n'ont pas été remplacés. Il est alors difficile d'attirer de nouveaux habitants. **La population vieillit** et diminue de façon importante. La désertification est en marche. Elle touche surtout les zones d'élevage aux terres pauvres.

B. La déprise agricole et les transformations du paysage (Étude de documents p.5-6)

- Pour mieux utiliser les machines, les parcelles (champs) sont agrandies. Dans les régions de bocage, **des haies sont supprimées** et les espaces les plus difficiles à travailler comme **les pentes sont abandonnés**. Les fermes sont plus grandes, mais on compte de moins en **moins d'agriculteurs**. On appelle **déprise agricole** l'abandon de certains espaces et la diminution du nombre d'agriculteurs.

C. Les nouveaux usages des paysages (Étude de documents p.7)

- Pour retenir leur population, certaines communes utilisent **le paysage comme un atout touristique**. Les habitants modifient leurs activités. Les chambres, les tables d'hôtes ou la vente directe se développent pour accueillir les randonneurs et amateurs de produits locaux. C'est le **tourisme vert**.

Schéma : vers la désertification et la déprise agricole

Consigne :

Place les expressions suivantes dans le schéma :

Moins de commerces

Moins d'agriculteurs

Déprise agricole

Exode rural

Agrandissement des exploitations

Moins d'habitants

